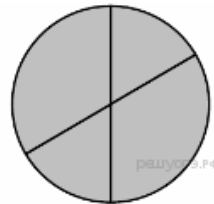


Задания 5. Формульная зависимость в графическом виде

1. Задание 5 № 5. Дан фрагмент электронной таблицы:

	A	B	C	D
1	2	4	6	8
2	=B1/A1		=C1-B1	=D1/A1

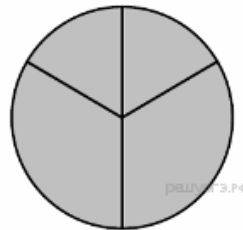


Какая из формул, приведённых ниже, может быть записана в ячейке B2, чтобы построенная после выполнения вычислений диаграмма по значениям диапазона ячеек A2:D2 соответствовала рисунку?

- 1) =C1/A1+1
- 2) =A1-1
- 3) =C1+B1
- 4) =C1+1

2. Задание 5 № 25. Дан фрагмент электронной таблицы:

	A	B	C	D
1	2	4	6	8
2	=D1/B1	=D1-B1		=C1/3

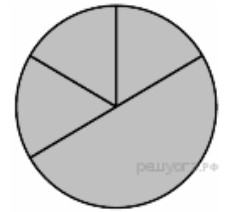


Какая из формул, приведённых ниже, может быть записана в ячейке C2, чтобы построенная после выполнения вычислений диаграмма по значениям диапазона ячеек A2:D2 соответствовала рисунку?

- 1) =C1+B1
- 2) =D1-1
- 3) =C1+1
- 4) =A1+2

3. Задание 5 № 45. Дан фрагмент электронной таблицы:

	A	B	C	D
1	3	4	2	5
2		=A1*3	=B1-1	=D1-2

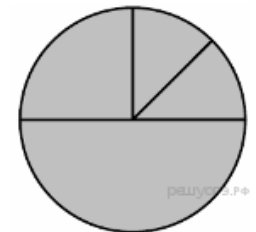


Какая из формул, приведённых ниже, может быть записана в ячейке A2, чтобы построенная после выполнения вычислений диаграмма по значениям диапазона ячеек A2:D2 соответствовала рисунку?

- 1) =D1*2
- 2) =D1-C1
- 3) =B1-A1
- 4) =B1/C1

4. Задание 5 № 65. Дан фрагмент электронной таблицы:

	A	B	C	D
1	3	4	2	5
2	=D1-C1+1		=B1*4	=D1+A1

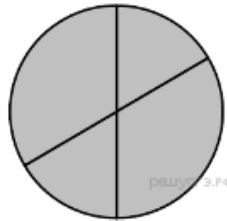


Какая из формул, приведённых ниже, может быть записана в ячейке B2, чтобы построенная после выполнения вычислений диаграмма по значениям диапазона ячеек A2:D2 соответствовала рисунку?

- 1) =D1-1
- 2) =B1+1
- 3) =C1*D1
- 4) =B1/C1

5. Задание 5 № 85. Дан фрагмент электронной таблицы:

	A	B	C	D
1	2	4	6	8
2		=C1/A1+1	=C1-B1	=D1/A1

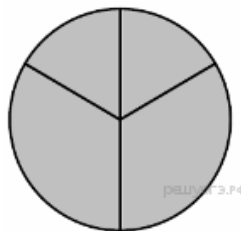


Какая из формул, приведённых ниже, может быть записана в ячейке A2, чтобы построенная после выполнения вычислений диаграмма по значениям диапазона ячеек A2:D2 соответствовала рисунку?

- 1) =D1-1
- 2) =C1+B1
- 3) =B1/A1
- 4) =A1-1

6. Задание 5 № 105. Дан фрагмент электронной таблицы:

	A	B	C	D
1	2	4	6	8
2	=D1/B1	=D1-B1	=A1+2	

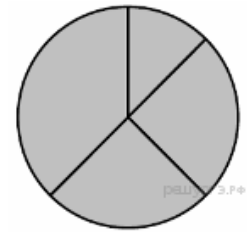


Какая из формул, приведённых ниже, может быть записана в ячейке D2, чтобы построенная после выполнения вычислений диаграмма по значениям диапазона ячеек A2:D2 соответствовала рисунку?

- 1) =A1-1
- 2) =C1+B1
- 3) =C 1+1
- 4) =C1/3

7. Задание 5 № 125. Дан фрагмент электронной таблицы:

	A	B	C	D
1	2	4	6	8
2	=B1-A1	=A1*2		=D1-2

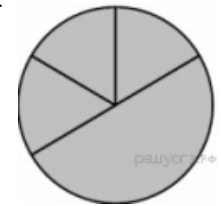


Какая из формул, приведённых ниже, может быть записана в ячейке C2, чтобы построенная после выполнения вычислений диаграмма по значениям диапазона ячеек A2:D2 соответствовала рисунку?

- 1) =C1+B1
- 2) =A1-1
- 3) =C1+1
- 4) =C1-A1

8. Задание 5 № 145. Дан фрагмент электронной таблицы:

	A	B	C	D
1	3	4	2	5
2	=D1-C1	=A1*3		=D1-2

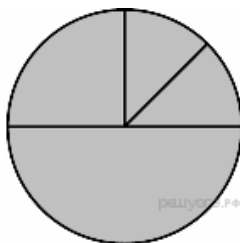


Какая из формул, приведённых ниже, может быть записана в ячейке C2, чтобы построенная после выполнения вычислений диаграмма по значениям диапазона ячеек A2:D2 соответствовала рисунку?

- 1) =B1-A1
- 2) =B1-1
- 3) =C1+B1
- 4) =D1*2

9. Задание 5 № 165. Дан фрагмент электронной таблицы:

	A	B	C	D
1	3	4	2	5
2	=D1-C1+1	=D1-1		=B1*4

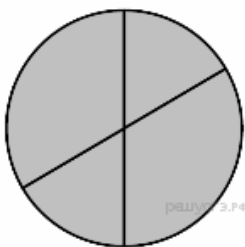


Какая из формул, приведённых ниже, может быть записана в ячейке C2, чтобы построенная после выполнения вычислений диаграмма по значениям диапазона ячеек A2:D2 соответствовала рисунку?

- 1) =D1-A1
- 2) =B1+1
- 3) =D1+A1
- 4) =C1*D1

10. Задание 5 № 185. Дан фрагмент электронной таблицы:

	A	B	C	D
1	2	4	6	8
2	=B1/A1	=C1/A1+1		=D1/A1

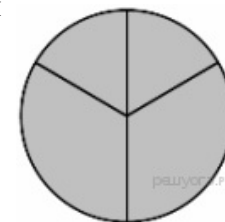


Какая из формул, приведённых ниже, может быть записана в ячейке C2, чтобы построенная после выполнения вычислений диаграмма по значениям диапазона ячеек A2:D2 соответствовала рисунку?

- 1) =C1-B1
- 2) =A1-1
- 3) =D1-1
- 4) =C 1+1

11. Задание 5 № 205. Дан фрагмент электронной таблицы:

	A	B	C	D
1	2	4	6	8
2	=D1/B1		=A1+2	=C1/3

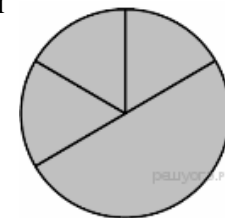


Какая из формул, приведённых ниже, может быть записана в ячейке B2, чтобы построенная после выполнения вычислений диаграмма по значениям диапазона ячеек A2:D2 соответствовала рисунку?

- 1) =D1-B1
- 2) =C1+B1
- 3) =A1-1
- 4) =D1-1

12. Задание 5 № 225. Дан фрагмент электронной таблицы:

	A	B	C	D
1	3	4	2	5
2	=D1-C1	=A1*3	=B1-1	

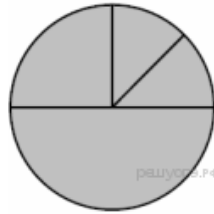


Какая из формул, приведённых ниже, может быть записана в ячейке D2, чтобы построенная после выполнения вычислений диаграмма по значениям диапазона ячеек A2:D2 соответствовала рисунку?

- 1) =D1-2
- 2) =C1+B1
- 3) =D1*2
- 4) =B1/C1

13. Задание 5 № 245. Дан фрагмент электронной таблицы:

	A	B	C	D
1	3	4	2	5
2	=D1-C1+1	=D1-1		=D1+A1

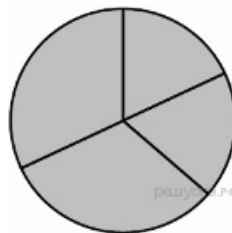


Какая из формул, приведённых ниже, может быть записана в ячейке C2, чтобы построенная после выполнения вычислений диаграмма по значениям диапазона ячеек A2:D2 соответствовала рисунку?

- 1) =B1+1
- 2) =D1-A1
- 3) =B1/C1
- 4) =B1*4

14. Задание 5 № 265. Дан фрагмент электронной таблицы:

	A	B	C	D
1	3	4	2	5
2		=D1-1	=A1+B1	=C1+D1

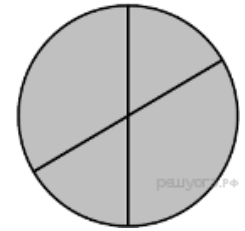


Какая из формул, приведённых ниже, может быть записана в ячейке A2, чтобы построенная после выполнения вычислений диаграмма по значениям диапазона ячеек A2:D2 соответствовала рисунку?

- 1) =D1-A1
- 2) =B1/C1
- 3) =D1-C1+1
- 4) =B1*4

15. Задание 5 № 285. Дан фрагмент электронной таблицы:

	A	B	C	D
1	2	4	6	8
2	=B1/A1	=C1/A1+1	=C1-B1	

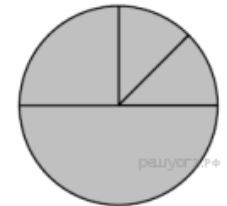


Какая из формул, приведённых ниже, может быть записана в ячейке D2, чтобы построенная после выполнения вычислений диаграмма по значениям диапазона ячеек A2:D2 соответствовала рисунку?

- 1) =C1+1
- 2) =D1/A1
- 3) =D1-1
- 4) =C1+B1

16. Задание 5 № 305. Дан фрагмент электронной таблицы:

	A	B	C	D
1	3	4	2	5
2		=D1-1	=B1*4	=D1+A1

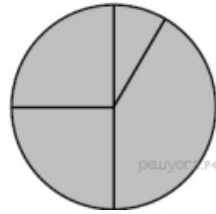


Какая из формул, приведённых ниже, может быть записана в ячейке A2, чтобы построенная после выполнения вычислений диаграмма по значениям диапазона ячеек A2:D2 соответствовала рисунку?

- 1) =C1*D1
- 2) =D1-C1+1
- 3) =D1-A1
- 4) =B1/C1

17. Задание 5 № 325. Дан фрагмент электронной таблицы:

	A	B	C	D
1	3	4	6	1
2		=B1+D1	=C1/2	=A1-D1+1



Какая из формул, приведённых ниже, может быть записана в ячейке A2, чтобы построенная после выполнения вычислений диаграмма по значениям диапазона ячеек A2:D2 соответствовала рисунку?

- 1) = A1 + D1
- 2) = B1 - A1
- 3) = A1 - 1
- 4) = C1 * D1

18. Задание 5 № 346. Дан фрагмент электронной таблицы:

	A	B	C	D
1	1	2	3	4
2	= C1	= A1 + B1	= D1 - A1	



Какая из формул, приведённых ниже, может быть записана в ячейке D2, чтобы построенная после выполнения вычислений диаграмма по значениям диапазона ячеек A2:D2 соответствовала рисунку?

- 1) = A1 + 2
- 2) = B1 + 2
- 3) = C1 * 3
- 4) = D1 + 2

19. Задание 5 № 366. Дан фрагмент электронной таблицы:

	A	B	C	D
1	1	2	3	4
2	= 4 * A1	= D1	= C1 + A1	



Какая из формул, приведённых ниже, может быть записана в ячейке D2, чтобы построенная после выполнения вычислений диаграмма по значениям диапазона ячеек A2:D2 соответствовала рисунку?

- 1) = C1 - 2
- 2) = A1 + 1
- 3) = D1 * 2
- 4) = C1 + 1

20. Задание 5 № 386. Дан фрагмент электронной таблицы:

	A	B	C	D
1	1	5	3	4
2	= 3 * A1	= C1	= (B1 + D1) / 3	



Какая из формул, приведённых ниже, может быть записана в ячейке D2, чтобы построенная после выполнения вычислений диаграмма по значениям диапазона ячеек A2:D2 соответствовала рисунку?

- 1) = B1 - 2
- 2) = A1 + 1
- 3) = (B1 + D1) * 2
- 4) = B1 + D1

21. Задание 5 № 406. Дан фрагмент электронной таблицы:

	A	B	C	D
1	5	4	3	2
2	$= 2*(B1 + D1)$	$= C1 + D1 - 1$	$= B1$	



Какая из формул, приведённых ниже, может быть записана в ячейке D2, чтобы построенная после выполнения вычислений диаграмма по значениям диапазона ячеек A2:D2 соответствовала рисунку?

- 1) $= A1 + C1$
- 2) $= A1 - 1$
- 3) $= D1/2$
- 4) $= D1*6$

22. Задание 5 № 426. Дан фрагмент электронной таблицы:

	A	B	C	D
1	2	3	8	9
2	$= 3*B1$	$= (A1 + D1 - 1)/10$	$= B1/3$	



Какая из формул, приведённых ниже, может быть записана в ячейке D2, чтобы построенная после выполнения вычислений диаграмма по значениям диапазона ячеек A2:D2 соответствовала рисунку?

- 1) $= A1 + 2$
- 2) $= A1*2$
- 3) $= C1 - B1$
- 4) $= D1 - C1$

23. Задание 5 № 446. Дан фрагмент электронной таблицы:

	A	B	C	D
1	5	4	3	2
2	$= (A1 + B1 + 1)/5$	$= A1 - C1$	$= D1$	



Какая из формул, приведённых ниже, может быть записана в ячейке D2, чтобы построенная после выполнения вычислений диаграмма по значениям диапазона ячеек A2:D2 соответствовала рисунку?

- 1) $= 2*(A1 + B1)$
- 2) $= A1 - B1$
- 3) $= D1*2$
- 4) $= D1 + C1$

24. Задание 5 № 466. Дан фрагмент электронной таблицы:

	A	B	C	D
1	2	1	3	4
2	$= A1$	$= 4*B1$	$= 2*D1$	



Какая из формул может быть записана в ячейке D2, чтобы построенная после выполнения вычислений диаграмма по значениям диапазона ячеек A2:D2 соответствовала рисунку?

- 1) $= A1$
- 2) $= A1*4$
- 3) $= D1*2$
- 4) $= D1 + 3$

25. Задание 5 № 486. Дан фрагмент электронной таблицы:

	A	B	C	D
1	1	2	10	3
2	$= (B1 + D1)/5$	$= D1 - B1$	$= A1$	



Какая из формул может быть записана в ячейке D2, чтобы построенная после выполнения вычислений диаграмма по значениям диапазона ячеек A2:D2 соответствовала рисунку?

- 1) $= A1 + 2$
- 2) $= C1 - A1$
- 3) $= D1 * 2$
- 4) $= D1 + 1$

26. Задание 5 № 506. Дан фрагмент электронной таблицы:

	A	B	C	D
1	0	1	2	3
2	$= 3 * D1$	$= A1 + B1$	$= C1 - B1$	



Какая из формул может быть записана в ячейке D2, чтобы построенная после выполнения вычислений диаграмма по значениям диапазона ячеек A2:D2 соответствовала рисунку?

- 1) $= 2 * A1 + 2$
- 2) $= D1 - C1$
- 3) $= D1 * 2$
- 4) $= D1 + 1$

27. Задание 5 № 526. Дан фрагмент электронной таблицы:

	A	B	C	D
1	1	3	5	0
2	$= C1 - 2$	$= 3 * B1$	$= B1 + D1$	



Какая из формул может быть записана в ячейке D2, чтобы построенная после выполнения вычислений диаграмма по значениям диапазона ячеек A2:D2 соответствовала рисунку?

- 1) $= 3 * A1$
- 2) $= A1$
- 3) $= D1 * 2$
- 4) $= D1 + 1$

28. Задание 5 № 546. Дан фрагмент электронной таблицы:

	A	B	C	D
1	3	7	2	9
2	$= C1 + A1$	$= B1 - 2$	$= A1 + C1 / 2$	



Какая из формул, приведённых ниже, может быть записана в ячейке D2, чтобы построенная после выполнения вычислений диаграмма по значениям диапазона ячеек A2:D2 соответствовала рисунку?

- 1) $= D1 + 1$
- 2) $= A1 + C1$
- 3) $= D1 - B1$

4) $=A1*D1$

29. Задание 5 № 566. Дан фрагмент электронной таблицы:

	A	B	C	D
1	6	4	1	8
2	$=D1-C1$		$=C1+A1$	$=B1/2$



Какая из формул, приведённых ниже, может быть записана в ячейке B2, чтобы построенная после выполнения вычислений диаграмма по значениям диапазона ячеек A2:D2 соответствовала рисунку?

- 1) $=D1-A1$
- 2) $=A1*2$
- 3) $=B1+C1$
- 4) $=D1-C1$

30. Задание 5 № 586. Дан фрагмент электронной таблицы:

	A	B	C	D
1	5	2	1	3
2	$=B1/2+3$		$=A1*3$	$=D1+C1$



Какая из формул, приведённых ниже, может быть записана в ячейке B2, чтобы построенная после выполнения вычислений диаграмма по значениям диапазона ячеек A2:D2 соответствовала рисунку?

- 1) $=B1*2$
- 2) $=B1*7+C1$
- 3) $=A1+D1$
- 4) $=B1*6+1$

31. Задание 5 № 606. Дан фрагмент электронной таблицы:

	A	B	C	D
1	6	1	8	3
2		$=B1+C1$	$=D1*3$	$=A1/3$



Какая из формул, приведённых ниже, может быть записана в ячейке A2, чтобы построенная после выполнения вычислений диаграмма по значениям диапазона ячеек A2:D2 соответствовала рисунку?

- 1) $=(C1 - A1)/2$
- 2) $=A1 - D1$
- 3) $=(C1 + B1)/3$
- 4) $=A1 + C1 + 2*B1$

32. Задание 5 № 626. Дан фрагмент электронной таблицы:

	A	B	C	D
1	2	3	6	4
2	$=C1-2*A1$	$=D1+B1$		$=D1+1$



Какая из формул, приведённых ниже, может быть записана в ячейке C2, чтобы построенная после выполнения вычислений диаграмма по значениям диапазона ячеек A2:D2 соответствовала рисунку?

- 1) $=B1-1$
- 2) $=C1-D1+A1$
- 3) $=A1+D1+1$
- 4) $=D1*2+B1$

33. Задание 5 № 646. Дан фрагмент электронной таблицы:

	A	B	C	D
1	5	7	8	1
2		=C1-2*D1	=C1-A1	=A1*2-B1

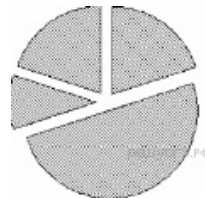


Какая из формул, приведённых ниже, может быть записана в ячейке A2, чтобы построенная после выполнения вычислений диаграмма по значениям диапазона ячеек A2:D2 соответствовала рисунку?

- 1) =(C1-B1) *2
- 2) =D1*4
- 3) =B1-D1
- 4) =(C1-2*D1)/2

34. Задание 5 № 666. Дан фрагмент электронной таблицы:

	A	B	C	D
1	1	4		3
2	=(D1+5)/B1		=A1	=A2*C2

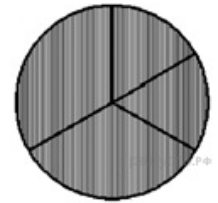


Какая из формул, приведённых ниже, может быть записана в ячейке B2, чтобы построенная после выполнения вычислений диаграмма по значениям диапазона ячеек A2:D2 соответствовала рисунку?

- 1) =B1-D1
- 2) =2*(B1-D1)
- 3) =B1+C2
- 4) =A2*C2+B1

35. Задание 5 № 686. Дан фрагмент электронной таблицы:

	A	B	C	D
1	2		4	3
2		=(A1+6)/C1	=A1*B2	=A1+B2

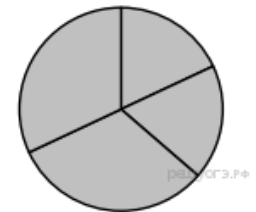


Какая из формул, приведённых ниже, может быть записана в ячейке A2, чтобы построенная после выполнения вычислений диаграмма по значениям диапазона ячеек A2:D2 соответствовала рисунку?

- 1) =C1-D1
- 2) =2*A1-C1
- 3) =(D1+5)/C1
- 4) =A1+B2

36. Задание 5 № 706. Дан фрагмент электронной таблицы:

	A	B	C	D
1	3	4	2	5
2		=D1-1	=A1+B1	=C1+D1



Какая из формул, приведённых ниже, может быть записана в ячейке A2, чтобы построенная после выполнения вычислений диаграмма по значениям диапазона ячеек A2:D2 соответствовала рисунку?

- 1) =D1-A1
- 2) =B1/C1
- 3) =D1-C1+1
- 4) =B1*4

37. Задание 5 № 749.

Дан фрагмент электронной таблицы:

	A	B	C	D
1	5	4	8	3
2	=C1-A1	= (C1+B1)/4		=B1*2+1



Какая из формул, приведённых ниже, может быть записана в ячейке C2, чтобы построенная после выполнения вычислений круговая диаграмма по значениям диапазона ячеек A2:D2 соответствовала рисунку?

- 1) =C1 + 1
- 2) =(A1+B1)/3
- 3) =B1*D1
- 4) =A1-B1

38. Задание 5 № 769.

Дан фрагмент электронной таблицы:

	A	B	C	D
1	3	2	1	8
2		=A1+C1	=D1-B1	=B1*2



Какая из формул, приведённых ниже, может быть записана в ячейке A2, чтобы построенная после выполнения вычислений круговая диаграмма по значениям диапазона ячеек A2:D2 соответствовала рисунку?

- 1) =(A1-C1)/2
- 2) =C1*2
- 3) =A1*B1+2
- 4) =D1/2

39. Задание 5 № 801.

Дан фрагмент электронной таблицы:

	A	B	C	D
1		3	6	5
2	=A1+2	=C1-2	(B1+D1)/2	=D1+3



Какое из перечисленных ниже чисел должно быть записано в ячейке A1, чтобы построенная после выполнения вычислений круговая диаграмма по значениям диапазона ячеек A2:D2 соответствовала рисунку?

- 1) 0
- 2) 2
- 3) 6
- 4) 4

40. Задание 5 № 821.

Дан фрагмент электронной таблицы:

	A	B	C	D
1		4	7	20
2	=A1*2	=C1-3	B1*2	=D1/5



Какое из перечисленных ниже чисел должно быть записано в ячейке A1, чтобы построенная после выполнения вычислений круговая диаграмма по значениям диапазона ячеек A2:D2 соответствовала рисунку?

- 1) 1
- 2) 2
- 3) 3
- 4) 4

41. Задание 5 № 843.

Дан фрагмент электронной таблицы:

	A	B	C	D
1	2		4	3
2	=C1*2	=D1	= (A2+4)/C1	



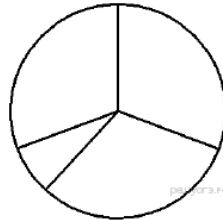
Какая формула может быть записана в ячейке D2, чтобы построенная после выполнения вычислений диаграмма по значениям диапазона ячеек A2:D2 соответствовала рисунку?

- 1) =C1+A1
- 2) =A1*2
- 3) =C1/2
- 4) =C1-D1

42. Задание 5 № 863.

Дан фрагмент электронной таблицы:

	A	B	C	D
1	2		4	3
2	=C1*2	=A1+6		=2*A1+C1



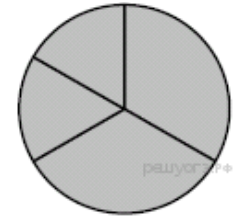
Какая формула может быть записана в ячейке C2, чтобы построенная после выполнения вычислений диаграмма по значениям диапазона ячеек A2:D2 соответствовала рисунку?

- 1) =C1+A1
- 2) =A2/C1
- 3) =C1*A2
- 4) =C1+D1

43. Задание 5 № 884.

Дан фрагмент электронной таблицы, в первой строке которой записаны числа, а во второй — формулы.

	A	B	C	D
1	2	4	5	11
2	=B1*2	= D1-3	=A1+2	



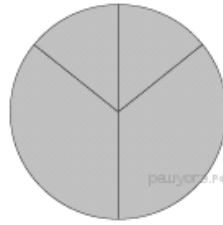
Какая из перечисленных ниже формул должна быть записана в ячейке D2, чтобы построенная после выполнения вычислений круговая диаграмма по значениям диапазона ячеек A2:D2 соответствовала рисунку?

- 1) =B1/2
- 2) =(A1+B1)*2
- 3) =A1*2
- 4) =A1+C1+1

44. Задание 5 № 904.

Дан фрагмент электронной таблицы:

	A	B	C	D
1	3	1	2	8
2	=B1*2	=D1-3	=A1+2	



3) 7

4) 8

Какая из перечисленных ниже формул должна быть записана в ячейке D2, чтобы построенная после выполнения вычислений круговая диаграмма по значениям диапазона ячеек A2:D2 соответствовала рисунку?

1) =A1+C1

2) =D1/4


3) =D1+2

4) =C1*5

45. Задание 5 № 924.

Дан фрагмент электронной таблицы, в первой строке которой записаны числа, а во второй — формулы.

	A	B	C	D
1		3	4	16
2	=A1 + 3	=C1 - 1	=D1/2	=B1 + 5



Какое из перечисленных ниже чисел должно быть записано в ячейке A1, чтобы построенная после выполнения вычислений круговая диаграмма по значениям диапазона ячеек A2:D2 соответствовала рисунку?

1) 1

2) 5

46. Задание 5 № 944.

Дан фрагмент электронной таблицы, в первой строке которой записаны числа, а во второй — формулы.

	A	B	C	D
1		6	9	3
2	=A1 - 6	=(C1 - 1)/4	=B1 + 3	=D1*3



Какое из перечисленных ниже чисел должно быть записано в ячейке A1, чтобы построенная после выполнения вычислений круговая диаграмма по значениям диапазона ячеек A2:D2 соответствовала рисунку?

1) 9

2) 15

3) 3

4) 18

47. Задание 5 № 1016.

Дан фрагмент электронной таблицы.

	A	B	C	D
1	4		6	11
2	=C1*2	=B1-2	=D1+1	=A1*3



Какое из перечисленных ниже чисел должно быть записано в ячейке B1, чтобы построенная после выполнения вычислений диаграмма по значениям диапазона ячеек A2:D2 соответствовала рисунку?

- 1) 6
- 2) 2
- 3) 12
- 4) 14

48. Задание 5 № 1036.

Дан фрагмент электронной таблицы.

	A	B	C	D
1	3		6	4
2	=D1-1	=B1/6	=A1	=C1/2



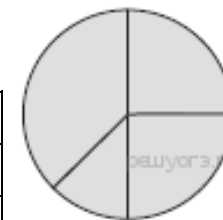
Какое из перечисленных ниже чисел должно быть записано в ячейке B1, чтобы построенная после выполнения вычислений диаграмма по значениям диапазона ячеек A2:D2 соответствовала рисунку?

- 1) 1
- 2) 6
- 3) 12
- 4) 18

49. Задание 5 № 1056.

Дан фрагмент электронной таблицы.

	A	B	C	D
1	4	2	3	1
2		=C1-D1	=B1-1	=A1-B1



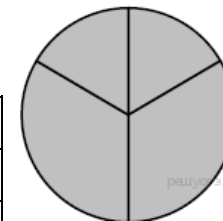
Какая из перечисленных ниже формул должна быть записана в ячейке A2, чтобы построенная после выполнения вычислений диаграмма по значениям диапазона ячеек A2:D2 соответствовала рисунку?

- 1) =A1-2
- 2) =A1-1
- 3) =C1+D1
- 4) =B1-D1

50. Задание 5 № 1076.

Дан фрагмент электронной таблицы.

	A	B	C	D
1	2	4	6	8
2	=D1/B1		=A1+2	=C1/3



Какая из перечисленных ниже формул должна быть записана в ячейке B2, чтобы построенная после выполнения вычислений диаграмма по значениям диапазона ячеек A2:D2 соответствовала рисунку?

- 1) =A1-1
- 2) =D1-B1
- 3) =C1+B1
- 4) =D1-1

51. Задание 5 № 1099.

Дан фрагмент электронной таблицы.

	A	B	C	D
1	3	4	2	5
2		=A1*3	=B1 – 1	=D1 – 2



Какая из перечисленных ниже формул должна быть записана в ячейке A2, чтобы построенная после выполнения вычислений диаграмма по значениям диапазона ячеек A2:D2 соответствовала рисунку?

- 1) =B1/C1
- 2) =D1*2
- 3) =D1 – C1
- 4) =B1 – A1

52. Задание 5 № 1119.

Дан фрагмент электронной таблицы.

	A	B	C	D
1	4		3	2
2	=(A1+D1)/2	=C1 – D1		=A1 – 1



Какая из перечисленных ниже формул должна быть записана в ячейке C2, чтобы построенная после выполнения вычислений диаграмма по значениям диапазона ячеек A2:D2 соответствовала рисунку?

- 1) =D1+1
- 2) =A1–2
- 3) =C1–D1
- 4) =A1–1

53. Задание 5 № 1139.

Дан фрагмент электронной таблицы.

	A	B
1	3	=A2–A1
2	12	=B1–B3
3	4	=A2/A4
4	2	=A3+A4



После выполнения вычислений была построена диаграмма по значениям диапазона ячеек B1:B4. Укажите адрес ячейки, соответствующий выделенной области на диаграмме.

- 1) B1
- 2) B2
- 3) B3
- 4) B4

54. Задание 5 № 1159.

Дан фрагмент электронной таблицы.

	A	B	C	D
1	2	4	6	8
2	=B1/A1	=C1/A1+1		=D1/A1



Какая из формул, приведённых ниже, может быть записана в ячейке C2, чтобы построенная после выполнения вычислений диаграмма по значениям диапазона ячеек A2:D2 соответствовала рисунку?

- 1) =D1-1
- 2) =C1-B1
- 3) =A1-1
- 4) =C1+1

55. Задание 5 № 1238.

Дан фрагмент электронной таблицы.

	A	B	C	D
1	6		6	4
2	=(C1+A1)/2	=C1-D1	=A2-D1	



Какая формула может быть записана в ячейке D2, чтобы построенная после выполнения вычислений диаграмма по значениям диапазона ячеек A2:D2 соответствовала рисунку?

- 1) = A1 - 2
- 2) = A1 - 4
- 3) = D1 * 2
- 4) = D1 + 1